

Муниципальное бюджетное общеобразовательное учреждение
Светлянская средняя общеобразовательная школа
Воткинский район, с. Светлое, пер. Школьный 8; 427421, тел: (34145)76-5-67; факс: (34145) 76-5-95,
E-mail: svetloe.sosh@yandex.ru
ОКПО 54486040, ОГРН 1021801063778, ИНН/КПП 1804006519/182801001.

ПРИНЯТО
Педагогическим
советом «31» августа_ 2023г.
Протокол № 12



УТВЕРЖДЕНО
Директор МБОУ Светлянской СОШ
Боброва О.Л.
Приказ от 31 августа 2023 г. № 31/11 од

**Изменения
к адаптированной рабочей программе
по предмету «Математика»
обучающихся с ЗПР (вариант 7.1)
(4 класс)**

ПОЯСНИТЕЛЬНАЯ ЗАПИСКА

Изменения к адаптированной рабочей программе по предмету «Математика» обучающихся с ЗПР (вариант 7.1), 4 класс внесены в соответствии с Федеральной рабочей программой по предмету «Математика»

.СОДЕРЖАНИЕ УЧЕБНОГО ПРЕДМЕТА «МАТЕМАТИКА»

4 класс

Числа и величины

Числа в пределах миллиона: чтение, запись, поразрядное сравнение упорядочение. Число, большее или меньшее данного числа на заданное число разрядных единиц, в заданное число раз.

Величины: сравнение объектов по массе, длине, площади, вместимости.

Единицы массы (центнер, тонна) и соотношения между ними.

Единицы времени (сутки, неделя, месяц, год, век), соотношения между ними.

Единицы длины (миллиметр, сантиметр, дециметр, метр, километр), площади (квадратный метр, квадратный сантиметр), вместимости (литр), скорости (километры в час, метры в минуту, метры в секунду). Соотношение между единицами в пределах 100 000.

Доля величины времени, массы, длины.

Арифметические действия

Письменное сложение, вычитание многозначных чисел в пределах миллиона. Письменное умножение, деление многозначных чисел на однозначное (двузначное) число в пределах 100 000. Деление с остатком. Умножение и деление на 10, 100, 1000.

Свойства арифметических действий и их применение для вычислений. Поиск значения числового выражения, содержащего несколько действий в пределах 100 000. Проверка результата вычислений, в том числе с помощью калькулятора.

Равенство, содержащее неизвестный компонент арифметического действия: запись, нахождение неизвестного компонента.

Умножение и деление величины на однозначное число.

Текстовые задачи

Работа с текстовой задачей, решение которой содержит 2–3 действия: анализ, представление на модели, планирование и запись решения, проверка решения и ответа. Анализ зависимостей, характеризующих процессы: движения (скорость, время, пройденный путь), работы (производительность, время, объём работы), купли-продажи (цена, количество, стоимость) и решение соответствующих задач. Задачи на установление времени (начало, продолжительность и окончание события), расчёта количества, расхода, изменения. Задачи на нахождение доли величины, величины по её доле. Разные способы решения некоторых видов изученных задач. Оформление решения по действиям с пояснением, по вопросам, с помощью числового выражения.

Пространственные отношения и геометрические фигуры

Наглядные представления о симметрии.

Окружность, круг: распознавание и изображение. Построение окружности заданного радиуса. Построение изученных геометрических фигур с помощью линейки, угольника, циркуля. Различение, называние пространственных геометрических фигур (тел): шар, куб, цилиндр, конус, пирамида.

Конструирование: разбиение фигуры на прямоугольники (квадраты), составление фигур из прямоугольников или квадратов.

Периметр, площадь фигуры, составленной из двух – трёх прямоугольников (квадратов).

Математическая информация

Работа с утверждениями: конструирование, проверка истинности. Составление и проверка логических рассуждений при решении задач.

Данные о реальных процессах и явлениях окружающего мира, представленные на диаграммах, схемах, в таблицах, текстах. Сбор математических данных о заданном объекте (числе, величине, геометрической фигуре). Поиск информации в справочной литературе, Интернете. Запись информации в предложенной таблице, на столбчатой диаграмме.

Доступные электронные средства обучения, пособия, тренажёры, их использование под руководством педагога и самостоятельное. Правила безопасной работы с электронными источниками информации (электронная форма учебника, электронные словари, образовательные сайты, ориентированные на обучающихся начального общего образования).

Алгоритмы решения изученных учебных и практических задач.

Изучение математики в 4 классе способствует освоению ряда универсальных учебных действий: познавательных универсальных учебных действий, коммуникативных универсальных учебных действий, регулятивных универсальных учебных действий, совместной деятельности.

У обучающегося будут сформированы следующие базовые логические и исследовательские действия как часть познавательных универсальных учебных действий:

ориентироваться в изученной математической терминологии, использовать её в высказываниях и рассуждениях;

сравнивать математические объекты (числа, величины, геометрические фигуры), записывать признак сравнения;

выбирать метод решения математической задачи (алгоритм действия, приём вычисления, способ решения, моделирование ситуации, перебор вариантов);

обнаруживать модели изученных геометрических фигур в окружающем мире;

конструировать геометрическую фигуру, обладающую заданным свойством (отрезок заданной длины, ломаная определённой длины, квадрат с заданным периметром);

классифицировать объекты по 1–2 выбранным признакам;

составлять модель математической задачи, проверять её соответствие условиям задачи;

определять с помощью цифровых и аналоговых приборов: массу предмета (электронные и гиревые весы), температуру (градусник), скорость движения транспортного средства (макет спидометра), вместимость (измерительные сосуды).

У обучающегося будут сформированы следующие информационные действия как часть познавательных универсальных учебных действий:

представлять информацию в разных формах;

извлекать и интерпретировать информацию, представленную в таблице, на диаграмме;

использовать справочную литературу для поиска информации, в том числе Интернет (в условиях контролируемого выхода).

У обучающегося будут сформированы следующие действия общения как часть коммуникативных универсальных учебных действий:

использовать математическую терминологию для записи решения предметной или практической задачи;

приводить примеры и контрпримеры для подтверждения или опровержения вывода, гипотезы;

конструировать, читать числовое выражение;

описывать практическую ситуацию с использованием изученной терминологии;

характеризовать математические объекты, явления и события с помощью изученных величин;

составлять инструкцию, записывать рассуждение;
инициировать обсуждение разных способов выполнения задания, поиск ошибок в решении.

У обучающегося будут сформированы следующие действия самоорганизации и самоконтроля как часть регулятивных универсальных учебных действий:

контролировать правильность и полноту выполнения алгоритма арифметического действия, решения текстовой задачи, построения геометрической фигуры, измерения;

самостоятельно выполнять прикидку и оценку результата измерений;

находить, исправлять, прогнозировать ошибки и трудности в решении учебной задачи.

У обучающегося будут сформированы следующие умения совместной деятельности:

участвовать в совместной деятельности: договариваться о способе решения, распределять работу между членами группы (например, в случае решения задач, требующих перебора большого количества вариантов), согласовывать мнения в ходе поиска доказательств, выбора рационального способа;

договариваться с одноклассниками в ходе организации проектной работы с величинами (составление расписания, подсчёт денег, оценка стоимости и покупки, приближённая оценка расстояний и временных интервалов, взвешивание, измерение температуры воздуха и воды), геометрическими фигурами (выбор формы и деталей при конструировании, расчёт и разметка, прикидка и оценка конечного результата).

2. ПЛАНИРУЕМЫЕ РЕЗУЛЬТАТЫ ОСВОЕНИЯ УЧЕБНОГО ПРЕДМЕТА «Математика» НА УРОВНЕ НАЧАЛЬНОГО ОБЩЕГО ОБРАЗОВАНИЯ

ЛИЧНОСТНЫЕ РЕЗУЛЬТАТЫ

Личностные результаты освоения программы по математике на уровне начального общего образования достигаются в единстве учебной и воспитательной деятельности в соответствии с традиционными российскими социокультурными и духовно-нравственными ценностями, принятыми в обществе правилами и нормами поведения и способствуют процессам самопознания, самовоспитания и саморазвития, формирования внутренней позиции личности.

В результате изучения математики на уровне начального общего образования у обучающегося будут сформированы следующие личностные результаты:

осознавать необходимость изучения математики для адаптации к жизненным ситуациям, для развития общей культуры человека, способности мыслить, рассуждать, выдвигать предположения и доказывать или опровергать их;

применять правила совместной деятельности со сверстниками, проявлять способность договариваться, лидировать, следовать указаниям, осознавать личную ответственность и объективно оценивать свой вклад в общий результат;

осваивать навыки организации безопасного поведения в информационной среде;

применять математику для решения практических задач в повседневной жизни, в том числе при оказании помощи одноклассникам, детям младшего возраста, взрослым и пожилым людям;

работать в ситуациях, расширяющих опыт применения математических отношений в реальной жизни, повышающих интерес к интеллектуальному труду и уверенность в своих силах при решении поставленных задач, умение преодолевать трудности;

оценивать практические и учебные ситуации с точки зрения возможности применения математики для рационального и эффективного решения учебных и жизненных проблем;

характеризовать свои успехи в изучении математики, стремиться углублять свои математические знания и умения, намечать пути устранения трудностей;

пользоваться разнообразными информационными средствами для решения предложенных и самостоятельно выбранных учебных проблем, задач.

МЕТАПРЕДМЕТНЫЕ РЕЗУЛЬТАТЫ

Познавательные универсальные учебные действия

Базовые логические действия:

устанавливать связи и зависимости между математическими объектами («часть – целое», «причина – следствие», «протяжённость»);

применять базовые логические универсальные действия: сравнение, анализ, классификация (группировка), обобщение;

приобретать практические графические и измерительные навыки для успешного решения учебных и житейских задач;

представлять текстовую задачу, её решение в виде модели, схемы, арифметической записи, текста в соответствии с предложенной учебной проблемой.

Базовые исследовательские действия:

проявлять способность ориентироваться в учебном материале разных разделов курса математики;

понимать и адекватно использовать математическую терминологию: различать, характеризовать, использовать для решения учебных и практических задач;

применять изученные методы познания (измерение, моделирование, перебор вариантов).

Работа с информацией:

находить и использовать для решения учебных задач текстовую, графическую информацию в разных источниках информационной среды;

читать, интерпретировать графически представленную информацию (схему, таблицу, диаграмму, другую модель);

представлять информацию в заданной форме (дополнять таблицу, текст), формулировать утверждение по образцу, в соответствии с требованиями учебной задачи;

принимать правила, безопасно использовать предлагаемые электронные средства и источники информации.

Коммуникативные универсальные учебные действия

Общение:

конструировать утверждения, проверять их истинность;

использовать текст задания для объяснения способа и хода решения математической задачи;

комментировать процесс вычисления, построения, решения;

объяснять полученный ответ с использованием изученной терминологии;

в процессе диалогов по обсуждению изученного материала – задавать вопросы, высказывать суждения, оценивать выступления участников, приводить доказательства своей правоты, проявлять этику общения;

создавать в соответствии с учебной задачей тексты разного вида – описание (например, геометрической фигуры), рассуждение (к примеру, при решении задачи), инструкция (например, измерение длины отрезка);

ориентироваться в алгоритмах: воспроизводить, дополнять, исправлять деформированные;

самостоятельно составлять тексты заданий, аналогичные типовым изученным.

Регулятивные универсальные учебные действия

Самоорганизация:

планировать действия по решению учебной задачи для получения результата;
планировать этапы предстоящей работы, определять последовательность учебных действий;

выполнять правила безопасного использования электронных средств, предлагаемых в процессе обучения.

Самоконтроль (рефлексия):

осуществлять контроль процесса и результата своей деятельности;
выбирать и при необходимости корректировать способы действий;
находить ошибки в своей работе, устанавливать их причины, вести поиск путей преодоления ошибок;

предвидеть возможность возникновения трудностей и ошибок, предусматривать способы их предупреждения (формулирование вопросов, обращение к учебнику, дополнительным средствам обучения, в том числе электронным);

оценивать рациональность своих действий, давать им качественную характеристику.

Совместная деятельность:

участвовать в совместной деятельности: распределять работу между членами группы (например, в случае решения задач, требующих перебора большого количества вариантов, приведения примеров и контрпримеров), согласовывать мнения в ходе поиска доказательств, выбора рационального способа, анализа информации;

осуществлять совместный контроль и оценку выполняемых действий, предвидеть возможность возникновения ошибок и трудностей, предусматривать пути их предупреждения.

ПРЕДМЕТНЫЕ РЕЗУЛЬТАТЫ

К концу обучения в **4 классе** у обучающегося будут сформированы следующие умения:

читать, записывать, сравнивать, упорядочивать многозначные числа;

находить число большее или меньшее данного числа на заданное число, в заданное число раз;

выполнять арифметические действия: сложение и вычитание с многозначными числами письменно (в пределах 100 – устно), умножение и деление многозначного числа на однозначное, двузначное число письменно (в пределах 100 – устно), деление с остатком – письменно (в пределах 1000);

вычислять значение числового выражения (со скобками или без скобок), содержащего 2–4 арифметических действия, использовать при вычислениях изученные свойства арифметических действий;

выполнять прикидку результата вычислений, проверку полученного ответа по критериям: достоверность (реальность), соответствие правилу (алгоритму), а также с помощью калькулятора;

находить долю величины, величину по её доле;

находить неизвестный компонент арифметического действия;

использовать единицы величин при решении задач (длина, масса, время, вместимость, стоимость, площадь, скорость);

использовать при решении задач единицы длины (миллиметр, сантиметр, дециметр, метр, километр), массы (грамм, килограмм, центнер, тонна), времени (секунда, минута, час, сутки, неделя, месяц, год), вместимости (литр), стоимости (копейка, рубль), площади (квадратный метр, квадратный дециметр, квадратный сантиметр), скорости (километр в час);

использовать при решении текстовых задач и в практических ситуациях соотношения между скоростью, временем и пройденным путём, между производительностью, временем и объёмом работы;

определять с помощью цифровых и аналоговых приборов массу предмета, температуру (например, воды, воздуха в помещении), вместимость с помощью измерительных сосудов, прикидку и оценку результата измерений;

решать текстовые задачи в 1–3 действия, выполнять преобразование заданных величин, выбирать при решении подходящие способы вычисления, сочетая устные и письменные вычисления и используя, при необходимости, вычислительные устройства, оценивать полученный результат по критериям: реальность, соответствие условию;

решать практические задачи, связанные с повседневной жизнью (например, покупка товара, определение времени, выполнение расчётов), в том числе с избыточными данными, находить недостающую информацию (например, из таблиц, схем), находить различные способы решения;

различать окружность и круг, изображать с помощью циркуля и линейки окружность заданного радиуса;

различать изображения простейших пространственных фигур (шар, куб, цилиндр, конус, пирамида), распознавать в простейших случаях проекции предметов окружающего мира на плоскость (пол, стену);

выполнять разбиение (показывать на рисунке, чертеже) простейшей составной фигуры на прямоугольники (квадраты), находить периметр и площадь фигур, составленных из двух-трёх прямоугольников (квадратов);

распознавать верные (истинные) и неверные (ложные) утверждения, приводить пример, контрпример;

формулировать утверждение (вывод), строить логические рассуждения (двух-трёхшаговые);

классифицировать объекты по заданным или самостоятельно установленным одному-двум признакам;

извлекать и использовать для выполнения заданий и решения задач информацию, представленную на простейших столбчатых диаграммах, в таблицах с данными о реальных процессах и явлениях окружающего мира (например, календарь, расписание), в предметах повседневной жизни (например, счёт, меню, прайс-лист, объявление);

заполнять данными предложенную таблицу, столбчатую диаграмму;

использовать формализованные описания последовательности действий (алгоритм, план, схема) в практических и учебных ситуациях, дополнять алгоритм, упорядочивать шаги алгоритма;

составлять модель текстовой задачи, числовое выражение;

выбирать рациональное решение задачи, находить все верные решения из предложенных.

ТЕМАТИЧЕСКОЕ ПЛАНИРОВАНИЕ

4 КЛАСС

№ п/п	Наименование разделов и тем программы	Количество часов			Электронные (цифровые) образовательные ресурсы
		Всего	Контрольные работы	Практические работы	
Раздел 1. Числа и величины					
1.1	Числа	11			Библиотека ЦОК https://m.edsoo.ru/7f411f36
1.2	Величины	12			Библиотека ЦОК https://m.edsoo.ru/7f411f36
Итого по разделу		23			
Раздел 2. Арифметические действия					
2.1	Вычисления	25			Библиотека ЦОК https://m.edsoo.ru/7f411f36
2.2	Числовые выражения	12			Библиотека ЦОК https://m.edsoo.ru/7f411f36
Итого по разделу		37			
Раздел 3. Текстовые задачи					
3.1	Решение текстовых задач	20			Библиотека ЦОК https://m.edsoo.ru/7f411f36
Итого по разделу		20			

Раздел 4. Пространственные отношения и геометрические фигуры					
4.1	Геометрические фигуры	12			Библиотека ЦОК https://m.edsoo.ru/7f411f36
4.2	Геометрические величины	8			Библиотека ЦОК https://m.edsoo.ru/7f411f36
Итого по разделу		20			
Раздел 5. Математическая информация					
5.1	Математическая информация	15			Библиотека ЦОК https://m.edsoo.ru/7f411f36
Итого по разделу		15			
Повторение пройденного материала		14		2	Библиотека ЦОК https://m.edsoo.ru/7f411f36
Итоговый контроль (контрольные и проверочные работы)		7	7		Библиотека ЦОК https://m.edsoo.ru/7f411f36
ОБЩЕЕ КОЛИЧЕСТВО ЧАСОВ ПО ПРОГРАММЕ		136	7	2	

ПОУРОЧНОЕ ПЛАНИРОВАНИЕ

4 КЛАСС

№ п/п	Тема урока	Количество часов			Электронные цифровые образовательные ресурсы
		Всего	Контрольные работы	Практические работы	
1	Числа от 1 до 1000: чтение, запись, сравнение	1			Библиотека ЦОК https://m.edsoo.ru/7f411f36
2	Числа от 1 до 1000: установление	1			Библиотека ЦОК https://m.edsoo.ru/7f411f36

	закономерности в последовательности, упорядочение, классификация				
3	Установление порядка выполнения действий в числовом выражении (без скобок), содержащем 2-4 действия	1			Библиотека ЦОК https://m.edsoo.ru/7f411f36
4	Установление порядка выполнения действий в числовом выражении (со скобками), содержащем 2-4 действия	1			Библиотека ЦОК https://m.edsoo.ru/7f411f36
5	Периметр фигуры, составленной из двух-трёх прямоугольников (квадратов)	1			Библиотека ЦОК https://m.edsoo.ru/7f411f36
6	Повторение изученного в 3 классе. Алгоритм умножения на однозначное число	1			Библиотека ЦОК https://m.edsoo.ru/7f411f36
7	Повторение изученного в 3 классе. Алгоритм деления на однозначное число	1			Библиотека ЦОК https://m.edsoo.ru/7f411f36
8	Входная контрольная работа	1	1		
9	Приемы прикидки результата и оценки правильности выполнения деления	1			Библиотека ЦОК https://m.edsoo.ru/7f411f36
10	Анализ текстовой задачи: данные и отношения	1			Библиотека ЦОК https://m.edsoo.ru/c4e27670
11	Правила работы с электронными	1			Библиотека ЦОК https://m.edsoo.ru/7f411f36

	техническими средствами. Применение электронных средств для закрепления алгоритмов вычислений				
12	Представление текстовой задачи на модели	1			
13	Столбчатая диаграмма: чтение, дополнение	1			https://resh.edu.ru/subject/lesson/5233/start/214055/
14	Числа в пределах миллиона: увеличение и уменьшение числа на несколько единиц разряда	1			Библиотека ЦОК https://m.edsoo.ru/c4e19444
15	Составление числового выражения (суммы, разности) с комментированием, нахождение его значения	1			Библиотека ЦОК https://m.edsoo.ru/7f411f36
16	Решение задачи разными способами	1			Библиотека ЦОК https://lesson.edu.ru/lesson/67a2c2c5-d640-4811-9df0-873a9a77dd7c?backUrl=%2F02.1%2F04
17	Оценка решения задачи на достоверность и логичность	1			Библиотека ЦОК https://lesson.edu.ru/lesson/67a2c2c5-d640-4811-9df0-873a9a77dd7c?backUrl=%2F02.1%2F04
18	Числа в пределах миллиона: чтение, запись	1			Библиотека ЦОК https://m.edsoo.ru/c4e1925a
19	Запись решения задачи с помощью числового выражения	1			Библиотека ЦОК https://m.edsoo.ru/7f411f36
20	Числа в пределах миллиона:	1			Библиотека ЦОК https://m.edsoo.ru/c4e195ca

	представление многозначного числа в виде суммы разрядных слагаемых				
21	Сравнение чисел в пределах миллиона	1			Библиотека ЦОК https://m.edsoo.ru/c4e1973c
22	Общее группы многозначных чисел. Классификация чисел. Класс миллионов. Класс миллиардов	1			Библиотека ЦОК https://m.edsoo.ru/7f411f36
23	Контрольная работа №1	1	1		Библиотека ЦОК https://m.edsoo.ru/7f411f36
24	Сравнение и упорядочение чисел	1			Библиотека ЦОК 1. https://m.edsoo.ru/c4e1989a 2) https://m.edsoo.ru/c4e19de0
25	Решение задач на работу	1			https://resh.edu.ru/subject/lesson/4032/start/
26	Составление высказываний о свойствах числа. Запись признаков сравнения чисел	1			Библиотека ЦОК https://m.edsoo.ru/c4e1a40c
27	Умножение на 10, 100, 1000	1			https://resh.edu.ru/subject/lesson/5233/start/214055/
28	Деление на 10, 100, 1000	1			https://resh.edu.ru/subject/lesson/5233/start/214055/
29	Наглядные представления о симметрии. Фигуры, имеющие ось симметрии	1			
30	Работа с утверждениями (одно- /двухшаговые) с использованием	1			Библиотека ЦОК https://m.edsoo.ru/7f411f36

	изученных связей: конструирование, проверка истинности(верные (истинные) и неверные (ложные))				
31	Сравнение объектов по длине. Соотношения между величинами длины, их применение	1			Библиотека ЦОК https://m.edsoo.ru/c4e1b2f8
32	Применение соотношений между единицами длины в практических и учебных ситуациях	1			Библиотека ЦОК https://m.edsoo.ru/c4e1b488
33	Сравнение объектов по площади. Соотношения между единицами площади, их применение	1			Библиотека ЦОК https://m.edsoo.ru/c4e1b60e
34	Применение соотношений между единицами площади в практических и учебных ситуациях	1			Библиотека ЦОК https://m.edsoo.ru/c4e1b78a
35	Решение задач на нахождение площади	1			
36	Нахождение площади фигуры разными способами: палетка, разбиение на прямоугольники или единичные квадраты	1			
37	Сравнение объектов по массе. Соотношения между величинами массы, их применение	1			Библиотека ЦОК https://m.edsoo.ru/c4e1a89e
38	Применение соотношений между единицами массы в практических	1			Библиотека ЦОК https://m.edsoo.ru/c4e1ae2a

	и учебных ситуациях				
39	Сравнение протяженности по времени. Соотношения между единицами времени, их применение	1			Библиотека ЦОК https://m.edsoo.ru/c4e1afe2
40	Применение соотношений между единицами времени в практических и учебных ситуациях	1			
41	Решение задач на расчет времени	1			https://resh.edu.ru/subject/lesson/4022/start/
42	Доля величины времени, массы, длины	1			Библиотека ЦОК https://m.edsoo.ru/c4e1be92
43	Сравнение величин, упорядочение величин	1			Библиотека ЦОК https://m.edsoo.ru/c4e1a704
44	Закрепление. Таблица единиц времени	1			Библиотека ЦОК https://m.edsoo.ru/c4e1b168
45	Контрольная работа №2	1	1		
46	Применение представлений о площади для решения задач	1			Библиотека ЦОК https://m.edsoo.ru/7f411f36
47	Решение задач на нахождение величины (массы, длины)	1			Библиотека ЦОК https://m.edsoo.ru/7f411f36
48	Задачи на нахождение величины (массы, длины)	1			Библиотека ЦОК https://m.edsoo.ru/7f411f36
49	Письменное сложение многозначных чисел	1			Библиотека ЦОК https://m.edsoo.ru/c4e1c022
50	Решение задач на нахождение	1			Библиотека ЦОК https://m.edsoo.ru/7f411f36

	длины				
51	Приемы прикидки результата и оценки правильности выполнения сложения	1			Библиотека ЦОК https://m.edsoo.ru/7f411f36
52	Разностное и кратное сравнение величин	1			
53	Письменное вычитание многозначных чисел	1			Библиотека ЦОК https://m.edsoo.ru/c4e1c1b2
54	Приемы прикидки результата и оценки правильности выполнения вычитания	1			
55	Устные приемы вычислений: сложение и вычитание многозначных чисел	1			
56	Дополнение многозначного числа до заданного круглого числа	1			
57	Нахождение неизвестного компонента действия сложения (с комментированием)	1			Библиотека ЦОК https://m.edsoo.ru/c4e1f61e
58	Нахождение неизвестного компонента действия вычитания (с комментированием)	1			Библиотека ЦОК https://m.edsoo.ru/c4e1f7c2
59	Примеры и контрпримеры	1			Библиотека ЦОК https://m.edsoo.ru/7f411f36
60	Изображение фигуры, симметричной заданной	1			
61	Вычисление доли величины	1			Библиотека ЦОК https://m.edsoo.ru/7f411f36
62	Применение представлений о доле	1			Библиотека ЦОК https://m.edsoo.ru/7f411f36

	величины для решения практических задач (в одно действие)				
63	Планирование хода решения задачи арифметическим способом	1			Библиотека ЦОК https://m.edsoo.ru/c4e21482
64	Сравнение математических объектов (общее, различное, уникальное/специфичное)	1			
65	Контрольная работа № 3	1	1		
66	Арифметические действия с величинами: сложение, вычитание	1			Библиотека ЦОК https://m.edsoo.ru/7f411f36
67	Поиск и использование данных для решения практических задач	1			Библиотека ЦОК https://m.edsoo.ru/c4e212de
68	Задачи на нахождение цены, количества, стоимости товара	1			Библиотека ЦОК https://m.edsoo.ru/c4e22abc
69	Запись решения задачи по действиям с пояснениями и с помощью числового выражения	1			
70	Применение представлений о сложении, вычитании для решения практических задач (в одно действие)	1			
71	Задачи с недостаточными данными	1			
72	Таблица: чтение, дополнение	1			
73	Конструирование: разбиение фигуры на прямоугольники	1			Библиотека ЦОК https://m.edsoo.ru/c4e25582

	(квадраты), конструирование фигуры из прямоугольников. Выполнение построений				
74	Устные приемы вычислений: умножение и деление с многозначным числом	1			
75	Умножение на однозначное число в пределах 100000	1			Библиотека ЦОК https://m.edsoo.ru/c4e1c4aa
76	Увеличение значения величины в несколько раз (умножение на однозначное число)	1			
77	Составление числового выражения (произведения, частного) с комментированием, нахождение его значения	1			
78	Взаимное расположение геометрических фигур на чертеже	1			
79	Нахождение неизвестного компонента действия умножения (с комментированием)	1			Библиотека ЦОК https://m.edsoo.ru/c4e1f970
80	Нахождение неизвестного компонента действия деления (с комментированием)	1			Библиотека ЦОК https://m.edsoo.ru/c4e1fb1e
81	Сравнение геометрических фигур	1			
82	Закрепление по теме "Равенство, содержащее неизвестный компонент арифметического	1			

	действия: запись, нахождение неизвестного компонента"				
83	Деление на однозначное число в пределах 100000	1			Библиотека ЦОК https://m.edsoo.ru/c4e1cf90
84	Составление числового выражения, содержащего 2 действия, нахождение его значения	1			
85	Уменьшение значения величины в несколько раз (деление на однозначное число)	1			Библиотека ЦОК https://m.edsoo.ru/7f411f36
86	Контрольная работа №4	1	1		
87	Число, большее или меньшее данного числа в заданное число раз	1			https://resh.edu.ru/subject/lesson/5252/start/
88	Применение представлений об умножении, делении для решения практических задач (в одно действие)	1			https://resh.edu.ru/subject/lesson/5252/start/
89	Повторение пройденного по разделу "Нумерация"	1			https://resh.edu.ru/subject/lesson/5252/start/
90	Сравнение значений числовых выражений с одним арифметическим действием	1			https://resh.edu.ru/subject/lesson/5252/start/
91	Разные приемы записи решения задачи	1			Библиотека ЦОК https://m.edsoo.ru/c4e2358e
92	Работа с утверждениями:	1			Библиотека ЦОК https://m.edsoo.ru/c4e215ea

	составление и проверка логических рассуждений при решении задач, формулирование вывода				
93	Решение задач на нахождение периметра прямоугольника (квадрата)	1			Библиотека ЦОК https://m.edsoo.ru/c4e2597e
94	Решение задач, отражающих ситуацию купли-продажи	1			Библиотека ЦОК https://m.edsoo.ru/c4e22abc
95	Закрепление изученного по разделу "Арифметические действия"	1			https://resh.edu.ru/subject/lesson/5252/start/
96	Периметр многоугольника	1			
97	Решение задач на движение	1			https://resh.edu.ru/subject/lesson/5243/start/
98	Решение расчетных задач (расходы, изменения)	1			https://resh.edu.ru/subject/lesson/5243/start/
99	Использование данных таблицы, диаграммы, схемы, рисунка для ответов на вопросы, проверки истинности утверждений	1			Библиотека ЦОК https://m.edsoo.ru/c4e25e42
100	Разные формы представления одной и той же информации	1			Библиотека ЦОК https://m.edsoo.ru/7f411f36
101	Модели пространственных геометрических фигур в окружающем мире (шар, куб)	1			Библиотека ЦОК https://m.edsoo.ru/c4e24736
102	Проекции предметов	1			https://resh.edu.ru/subject/lesson/4129/start/

	окружающего мира на плоскость				
103	Применение алгоритмов для вычислений	1			
104	Деление с остатком	1			
105	Правила работы с электронными техническими средствами. Применение электронных средств для закрепления умения решать текстовые задачи	1			
106	Нахождение значения числового выражения, содержащего 2-4 действия	1			https://resh.edu.ru/subject/lesson/4032/start/
107	Правила работы с электронными техническими средствами. Применение электронных средств для закрепления умения конструировать с использованием геометрических фигур	1			Библиотека ЦОК https://m.edsoo.ru/7f411f36
108	Алгоритм умножения на двузначное число в пределах 100000	1			Библиотека ЦОК https://m.edsoo.ru/c4e1c6f8
109	Практическая работа "Конструирование: разбиение фигуры на прямоугольники (квадраты), составление фигур из прямоугольников/квадратов". Повторение	1		1	Библиотека ЦОК https://m.edsoo.ru/c4e25410
110	Приемы прикидки результата и	1			

	оценки правильности выполнения умножения				
111	Умножение на двузначное число в пределах 100000	1			
112	Контрольная работа №5	1	1		
113	Модели пространственных геометрических фигур в окружающем мире (цилиндр, пирамида, конус)	1			Библиотека ЦОК https://m.edsoo.ru/c4e2529e
114	Применение алгоритмов для построения геометрической фигуры, измерения длины отрезка	1			
115	Письменное умножение и деление многозначных чисел	1			
116	Классификация объектов по одному-двум признакам	1			
117	Закрепление по теме "Письменные вычисления"	1			
118	Закрепление по теме "Задачи на установление времени, расчёта количества, расхода, изменения"	1			Библиотека ЦОК https://m.edsoo.ru/c4e2316a
119	Суммирование данных строки, столбца данной таблицы	1			
120	Алгоритм деления на двузначное число в пределах 100000	1			Библиотека ЦОК https://m.edsoo.ru/c4e1d544
121	Деление на двузначное число в пределах 100000	1			

122	Окружность, круг: распознавание и изображение	1			Библиотека ЦОК https://m.edsoo.ru/c4e241f0
123	Задачи на нахождение производительности труда, времени работы, объема выполненной работы	1			Библиотека ЦОК https://m.edsoo.ru/c4e22968
124	Задачи с избыточными и недостающими данными	1			Библиотека ЦОК https://m.edsoo.ru/7f411f36
125	Окружность и круг: построение, нахождение радиуса	1			Библиотека ЦОК https://m.edsoo.ru/c4e2433a
126	Применение представлений о периметре многоугольника для решения задач	1			Библиотека ЦОК https://m.edsoo.ru/7f411f36
127	Итоговая контрольная работа	1	1		Библиотека ЦОК https://m.edsoo.ru/7f411f36
128	Закрепление. Практическая работа по теме "Окружность, круг: распознавание и изображение; построение окружности заданного радиуса". Повторение по теме "Геометрические фигуры"	1		1	Библиотека ЦОК https://m.edsoo.ru/c4e296aa
129	Закрепление по теме "Разные способы решения некоторых видов изученных задач"	1			Библиотека ЦОК https://m.edsoo.ru/7f411f36
130	Задачи на нахождение скорости, времени, пройденного пути	1			Библиотека ЦОК https://m.edsoo.ru/c4e2911e
131	Закрепление. Работа с текстовой задачей	1			Библиотека ЦОК https://m.edsoo.ru/c4e29510

132	Закрепление по теме "Задачи на нахождение доли величины, величины по её доле". Материал для расширения и углубления знаний	1			Библиотека ЦОК 1. https://m.edsoo.ru/c4e20b40 2) https://m.edsoo.ru/c4e20cee
133	Построение изученных геометрических фигур заданными измерениями) с помощью чертежных инструментов: линейки, угольника, циркуля	1			Библиотека ЦОК https://m.edsoo.ru/c4e244a2
134	Пространственные геометрические фигуры (тела): шар, куб, цилиндр, конус, пирамида; их различение, название	1			Библиотека ЦОК https://m.edsoo.ru/c4e25154
135	Составление числового выражения, содержащего 1-2 действия и нахождение его значения	1			Библиотека ЦОК https://m.edsoo.ru/c4e288ea
136	Закрепление по теме "Пространственные геометрические фигуры (тела)"	1			Библиотека ЦОК https://m.edsoo.ru/c4e299ca
ОБЩЕЕ КОЛИЧЕСТВО ЧАСОВ ПО ПРОГРАММЕ		136	7	2	

**ДОСТИЖЕНИЕ ЛИЧНОСТНЫХ РЕЗУЛЬТАТОВ В РАМКАХ
РЕАЛИЗАЦИИ МОДУЛЯ «ШКОЛЬНЫЙ УРОК» РАБОЧЕЙ
ПРОГРАММЫ ВОСПИТАНИЯ**

Реализация педагогическим работником воспитательного потенциала уроков математики предполагает следующее:

- максимальное использование воспитательных возможностей содержания уроков для формирования у обучающихся российских традиционных духовно-нравственных и социокультурных ценностей, российского исторического сознания на основе исторического просвещения; подбор соответствующего содержания уроков, заданий, вспомогательных материалов, проблемных ситуаций для обсуждений;

- включение в содержание уроков целевых ориентиров результатов воспитания, их учет в определении воспитательных задач уроков, занятий;

- выбор методов, методик, технологий, оказывающих воспитательное воздействие на личность в соответствии с воспитательным идеалом, целью и задачами воспитания, целевыми ориентирами результатов воспитания; реализацию приоритета воспитания в учебной деятельности;

- привлечение внимания обучающихся к ценностному аспекту изучаемых на уроках предметов, явлений и событий, инициирование обсуждений, высказываний своего мнения, выработки своего личностного отношения к изучаемым событиям, явлениям, лицам;

- применение интерактивных форм учебной работы – интеллектуальных, стимулирующих познавательную мотивацию, игровых методик, дискуссий, дающих возможность приобрести опыт ведения конструктивного диалога; групповой работы, которая учит строить отношения и действовать в команде, способствует развитию критического мышления;

- побуждение обучающихся соблюдать нормы поведения, правила общения со сверстниками и педагогическими работниками, соответствующие укладу школы, установление и поддержку доброжелательной атмосферы;

- организацию наставничества мотивированных и эрудированных обучающихся над неуспевающими одноклассниками, в том числе с особыми образовательными потребностями, дающего обучающимся социально значимый опыт сотрудничества и взаимной помощи;

- инициирование и поддержку исследовательской деятельности обучающихся, планирование и выполнение индивидуальных и групповых проектов воспитательной направленности.

Учитель оценивает знания и умения учащихся с учетом их индивидуальных особенностей.

1. Содержание и объем материала, подлежащего проверке, определяется программой. При проверке усвоения материала нужно выявлять полноту, прочность усвоения учащимися теории и умения применять ее на практике в знакомых и незнакомых ситуациях.

2. Основными формами проверки знаний и умений учащихся по математике являются письменная контрольная работа и устный опрос.

При оценке письменных и устных ответов учитель в первую очередь учитывает показанные учащимися знания и умения. Оценка зависит также от наличия и характера погрешностей, допущенных учащимися.

3. Среди погрешностей выделяются *ошибки и недочеты*. **Погрешность** считается ошибкой, если она свидетельствует о том, что ученик не овладел основными знаниями, умениями, указанными в программе.

К **недочетам** относятся погрешности, свидетельствующие о недостаточно полном или недостаточно прочном усвоении основных знаний и умений или об отсутствии знаний, не считающихся в программе основными. Недочетами также считаются: погрешности, которые не привели к искажению смысла полученного учеником задания или способа его выполнения; неаккуратная запись; небрежное выполнение чертежа.

Граница между ошибками и недочетами является в некоторой степени условной. При одних обстоятельствах допущенная учащимися погрешность может рассматриваться учителем как ошибка, в другое время и при других обстоятельствах — как недочет.

4. Задания для устного и письменного опроса учащихся состоят из теоретических вопросов и задач.

Ответ на теоретический вопрос считается безупречным, если по своему содержанию полностью соответствует вопросу, содержит все необходимые теоретические факты и обоснованные выводы, а его изложение и письменная запись математически грамотны и отличаются последовательностью и аккуратностью.

Решение задачи считается безупречным, если правильно выбран способ решения, само решение сопровождается необходимыми объяснениями, верно выполнены нужные вычисления и преобразования, получен верный ответ, последовательно и аккуратно записано решение.

Оценка ответа учащегося при устном и письменном опросе проводится по пятибалльной системе, т. е. за ответ

1. выставляется одна из отметок: 2 (неудовлетворительно), 3 (удовлетворительно), 4 (хорошо), 5 (отлично).
2. Учитель может повысить отметку за оригинальный ответ на

вопрос или оригинальное решение задачи, которые свидетельствуют о высоком математическом развитии учащегося; за решение более сложной задачи или ответ на более сложный вопрос, предложенные учащемуся дополнительно после выполнения им заданий.

Критерии ошибок

К грубым ошибкам относятся ошибки, которые обнаруживают незнание учащимися формул, правил, основных свойств и неумение их применять; незнание приемов решения задач, рассматриваемых в учебниках, а также вычислительные ошибки, если они не являются опиской;

К негрубым и недочетам относятся: нерациональное решение, описки, недостаточность или отсутствие пояснений, обоснований в решениях

Оценка устных ответов учащихся

Ответ оценивается *отметкой «5»*, если ученик: полно раскрыл содержание материала в объеме, предусмотренном программой и учебником,

изложил материал грамотным языком в определенной логической последовательности, точно используя математическую терминологию и символику;

правильно выполнил рисунки, чертежи, сопутствующие ответу;

показал умение иллюстрировать теоретические положения конкретными примерами, применять их в новой ситуации при выполнении практического задания;

продемонстрировал усвоение ранее изученных сопутствующих вопросов, сформированность и устойчивость используемых при отработке умений и навыков;

отвечал самостоятельно без наводящих вопросов учителя. Возможны одна - две неточности при освещении второстепенных вопросов или в выкладках, которые ученик легко исправил по замечанию учителя.

Ответ оценивается *отметкой «4»*, если он удовлетворяет в основном требованиям на оценку «5», но при этом имеет один из недостатков:

в изложении допущены небольшие пробелы, не исказившие математическое содержание ответа;

допущены один – два недочета при освещении основного содержания ответа, исправленные по замечанию учителя;

допущены ошибка или более двух недочетов при освещении второстепенных вопросов или в выкладках, легко исправленные по замечанию учителя.

Отметка «3» ставится в следующих случаях:

неполно или непоследовательно раскрыто содержание материала, но показано общее понимание вопроса и продемонстрированы умения, достаточные для дальнейшего усвоения программного материала (определенные «Требованиями к математической подготовке учащихся»);

имелись затруднения или допущены ошибки в определении понятий, использовании математической терминологии, чертежах, выкладках, исправленные после нескольких наводящих вопросов учителя;

ученик не справился с применением теории в новой ситуации при выполнении практического задания, но выполнил задания обязательного уровня сложности по данной теме;

при знании теоретического материала выявлена недостаточная сформированность основных умений и навыков.

Отметка «2» ставится в следующих случаях:

не раскрыто основное содержание учебного материала;

обнаружено незнание или непонимание учеником большей или наиболее важной части учебного материала;

допущены ошибки в определении понятий, при использовании математической терминологии, в рисунках, чертежах, в выкладках, которые не исправлены после нескольких наводящих вопросов учителя

Оценка письменных работ учащихся

Отметка «5» ставится, если: работа выполнена полностью; в логических рассуждениях и обосновании решения нет пробелов и ошибок; в решении нет математических ошибок (возможна одна неточность, описка, не являющаяся следствием незнания или непонимания учебного материала).

Отметка «4» ставится, если:

работа выполнена полностью, но обоснования шагов решения недостаточны (если умение обосновывать рассуждения не являлось специальным объектом проверки); допущена одна ошибка или два-три недочета в выкладках, рисунках, чертежах (если эти виды работы не являлись специальным объектом проверки).

Отметка «3» ставится, если

допущены более одной ошибки или более двух-трех недочетов в выкладках, чертежах, но учащийся владеет обязательными умениями по проверяемой теме.

Отметка «2» ставится, если:

допущены существенные ошибки, показавшие, что учащийся не владеет обязательными умениями по данной теме в полной мере.

Оценка тестовых работ учащихся

Отметка «4» ставится, если: учащийся верно выполнил 70-89% работы

Отметка «3» ставится, если: учащийся верно выполнил 50-69% работы

Отметка «2» ставится, если: учащийся выполнил менее 50% работы

Критерии оценки проектной деятельности (проект) Оценка проекта.

Отметка «5»

1. Правильно поняты цель, задачи выполнения проекта.
2. Соблюдена технология исполнения проекта, выдержаны соответствующие этапы.
3. Проект оформлен в соответствии с требованиями.
4. Проявлены творчество, инициатива.
5. Предъявленный продукт деятельности отличается высоким

качеством исполнения, соответствует заявленной теме.

Отметка «4»

1. Правильно поняты цель, задачи выполнения проекта.
2. Соблюдена технология исполнения проекта, этапы, но допущены незначительные ошибки, неточности в оформлении.
3. Проявлено творчество. Предъявленный продукт деятельности отличается высоким качеством исполнения, соответствует заявленной теме.

Отметка «3»

1. Правильно поняты цель, задачи выполнения проекта.
2. Соблюдена технология выполнения проекта, но имеются 1-2 ошибки в этапах или в оформлении.
3. Самостоятельность проявлена на недостаточном уровне.

Отметка «2»

1. Проект не выполнен или не завершен

Контрольно-измерительные материалы

4класс

Урок №8 Входная контрольная работа

<p>Вариант 1.</p> <p>1. Решить задачу. Для посадки привезли 100 саженцев. Перед школой посадили 3 ряда по 20 саженцев в каждом, а за школой – 2 ряда по 15 саженцев. Сколько саженцев осталось?</p> <p>2. Вычисли, записывая решение в столбик. $304 - 132 =$ $278 \times 3 =$ $912 : 4 =$ $202 - 156 =$ $463 \times 2 =$ $608 : 2 =$</p> <p>3. решить примеры $95 + (180 + 140) : 4 \times 5 =$ $(300 - 194) - (236 - 158) : 2 =$ $96 : (72 : 24) =$ $80 : (10 \times 8) \times 398 =$</p> <p>4. Вычислить периметр прямоугольника со сторонами 2 см и 3 см.</p>	<p>Вариант 2</p> <p>1. Решить задачу. В столовую привезли 90 л сока. В первый день израсходовали 12 трехлитровых банок, а во второй день – 15 двухлитровых банок. Сколько литров сока осталось на третий день?</p> <p>2. Вычисли, записывая решение в столбик. $607 - 364 =$ $367 \times 2 =$ $903 : 3 =$ $307 - 259 =$ $183 \times 4 =$ $762 : 3 =$</p> <p>3. Решить примеры $(400 - 302) : 2 + (176 + 358) =$ $600 - (180 + 90) : 3 \times 5 =$ $92 : (56 : 28) =$ $(7 \times 10) : 70 \times 156 =$</p> <p>4. Вычислить периметр прямоугольника со сторонами 1 см и 5 см.</p>
--	---

Урок № 23 Контрольная работа №1

<p>Вариант 1.</p> <p>1. Запиши числа от 3798 до 3806.</p> <p>2. Запиши число, в котором: а) 15 ед IY класса, 30 ед III класса, 567 ед II класса, 306 ед I класса. б) 168 миллионов 48 тысяч 30 единиц в) 27 миллионов 27 тысяч 27 единиц г) 3 миллиарда 430 миллионов 5 тысяч 50 единиц</p> <p>3. Вычисли. $64000 : 1000 =$ $7800 \times 10 =$ $9000 + 5 =$ $5000 + 60 + 2 =$ $3000 + 400 + 50 + 9 =$ $400376 - 400000 - 70 =$ $543605 - 500000 - 600 =$ $43879 - 43000 - 800 =$</p> <p>4. Решить задачу. Токарь за семичасовой рабочий день вытачивает 63 детали, а его ученик за 6 ч вытачивает 30 таких деталей. На сколько больше вытачивает за 1 ч рабочий, чем его ученик?</p> <p>5. решить уравнения. $108 : a = 9$ $v : 3 = 11$ $14 \times c = 42$</p>	<p>Вариант 2</p> <p>1. Запиши числа от 5697 до 5703.</p> <p>2. Запиши число, в котором: а) 7 ед IY класса, 31 ед III класса, 907 ед II класса, 36 ед I класса. б) 118 миллионов 18 тысяч 80 единиц в) 35 миллионов 35 тысяч 35 единиц г) 22 миллиарда 40 миллионов 16 тысяч 20 единиц</p> <p>3. Вычисли. $84000 : 1000 =$ $5300 \times 100 =$ $7000 + 7 = 6000 + 500 + 1 =$ $7000 + 500 + 60 + 3 =$ $800231 - 800000 - 1 =$ $657908 - 600000 - 50000 =$ $65997 - 65000 - 70 =$</p> <p>4. Решить задачу Рабочий за семичасовой рабочий день изготавливает 56 деталей, а его ученик за 4 ч изготавливает 24 такие детали. Сколько всего деталей изготавливают за 1 ч рабочий и ученик?</p> <p>5. решить уравнения. $96 : a = 8$ $v : 4 = 11$ $13 \times c = 52$</p>
--	--

Урок 45 Контрольная работа №2

Вариант 1	Вариант 2
1.Какое число надо прибавить к числу 5300, чтобы получить 6000? 1700 700 70	1.Какое число надо прибавить к числу 2400, чтобы получить 4000? 1600 600 60
2. Из какого числа вычли 800, если получили 700? 1500 100 1400	2. Из какого числа вычли 300, если получили 900? 1300 600 1200
3. Значение какого выражения равно 2800? 2600 +20 3000 -200 2700 +1000	3. Значение какого выражения равно 1600? 1400 +20 2300-200 1700 - 100
4. Укажи значение числового выражения (600+240): 7 + 80 2000 200 92	4. Укажи значение числового выражения (980 - 350): 9 + 100 170 107 710
5.Какой знак сравнения надо поставить , чтобы получить верное неравенство $3800 - (1900 - 900) * 3800 - 1900$	5.Какой знак сравнения надо поставить , чтобы получить верное неравенство $5600 - (300 + 600) * 5600 - 300 + 600$
6.Выбери верное выражение для решения задачи: «Оля сорвала 15 тюльпанов. Несколько тюльпанов она поставила в 2 вазы, по 3 тюльпана в каждую, а остальные связала в букет. Сколько тюльпанов в букете?» (15 - 3) x 2 15 - 3 x 2 15 - (3 + 2)	6.Выбери верное выражение для решения задачи: «В 2 одинаковые банки с ананасовым компотом кладут 18 кружков ананаса. Сколько кружков ананаса нужно положить в 6 таких банок?» (18+ 2) x 6 18 : 2 x 6 18 x 2 : 6
7.Укажи правильно вычисленную сумму чисел 48679 и 32976 $48679 + 32976 = 80655$ $48679 + 32976 = 81655$	7.Укажи правильно вычисленную сумму чисел 38697 и 42538 $38697 + 42538 = 81135$ $38697 + 42538 = 81235$
8.Укажи правильно вычисленную разность чисел 72435 и 25796 $72435 - 25796 = 56649$ $72435 - 25796 = 46639$	8.Укажи правильно вычисленную разность чисел 81423 и 29873 $81423 - 29873 = 51540$ $81423 - 29873 = 51550$
9.Какое число надо записать в окошко, чтобы стало верным равенство $8200 + \dots = 10000 - 1000$ 1800 800 80	9.Какое число надо записать в окошко, чтобы стало верным равенство $9400 + \dots = 10250 - 250$ 6000 600 60
10.Какой может быть длина нового чертежного карандаша? 19мм 19дм 19см	10.Какой может быть масса кошки, которой 1 год? 300г 3кг 30кг

Урок 65 Контрольная работа №3

Вариант 1	Вариант 1
1.Реши задачу. От двух пристаней находившихся на расстоянии 90км друг от друга, одновременно отправились навстречу друг другу два теплохода и встретились через 2ч. Скорость одного из них 21км\ч. С какой скоростью шел	1.Реши задачу. Две девочки одновременно вышли из своих домов навстречу друг другу и встретились через 3 мин. Скорость первой девочки 60м\мин, а второй девочки 70 м\мин. Каково расстояние между их домами?

<p>второй теплоход?</p> <p>2. Вычисли, выполнив запись столбиком. 43600 x 5 2400x30 540 x 700 80 x 356</p> <p>3. Решить уравнения. $X - 546 = 35 + 64$ $X \times (500 : 100) = 125$</p> <p>4. Вырази 45м2дм = ...дм 7сут14ч = ...ч 8т 5ц = ...кг 20000см² = ...м²</p> <p>5* На прямой отметили 10 точек так, что расстояние между любыми соседними точками равно 5см. каково расстояние между крайними точками?</p>	<p>2. Вычисли, выполнив запись столбиком. 2300 x 90 64000 x 3 640 x 800</p> <p>3. Решить уравнения. $376 - x = 7 \times 9$ $y : 3 = 720 : 9$</p> <p>4. Вырази 4ч23мин = ...мин $7\text{м}^2 14\text{см}^2 = \dots\text{см}^2$ 36ц5кг = ...кг $34000\text{дм}^2 = \dots\text{м}^2$</p> <p>5* Сколько разных произведений, кратных 10, можно составить из множителей 2,3,5,7</p>
---	---

Урок №86 Контрольная работа № 4

<p>Вариант 1</p> <p>1. Какое число будет следующим в последовательности чисел : 4, 11, 25, 53? 158 109 103</p> <p>2. Во сколько раз надо увеличивать число 7, чтобы получить 2800 В: 400раз 40 раз 4 раза</p> <p>3. Какое число больше, чем 900, в 6 раз? 5400 540 54000</p> <p>4. Какой может быть площадь варочной поверхности кухонной плиты в квартире? 49дм² 49м² 49мм²</p> <p>5. укажи произведение чисел 5073 и 4 которое вычислено верно. $5073 \times 4 = 20282$ $5073 \times 4 = 20292$</p> <p>6. Для выступления цирковых собачек изготовили 34 башмака. Сколько было собачек, если все они выступали в новых башмачках и 2 башмака оказалось лишним? 7 8 9</p> <p>7. Какое одно и то же число надо записать в окошки, чтобы стало верным равенство $70000 : \dots = 700 \times \dots$ 100 10 1</p> <p>8. Какое число надо записать в окошко, чтобы равенство $\dots : 7 = 940 - 900$ стало верным? 28 280 2800</p>	<p>Вариант 2</p> <p>1. Какое число будет следующим в последовательности чисел : 3, 10, 24, ... 108? 50 52 54</p> <p>2. Во сколько раз надо увеличивать число 3, чтобы получить 1800 В: 600раз 60 раз 6 раза</p> <p>3. Какое число больше, чем 270 на 9 ? 300 30 279</p> <p>4. Какой может быть длина кухонного стола в квартире? 12см 12дм 12м</p> <p>5. укажи произведение чисел 7814 и 6 которое вычислено верно. $7814 \times 6 = 46864$ $7814 \times 6 = 46884$</p> <p>6. Пятьдесят карандашей разложили в коробки, по 6 штук в каждую. Сколько коробок заняли эти карандаши, если 2 карандаша осталось? 10 8 9</p> <p>7. Какое одно и то же число надо записать в окошки, чтобы стало верным равенство $90000 : \dots = 9 \times \dots$ 100 10 9</p> <p>8. Какое число надо записать в окошко, чтобы равенство $\dots : 7 = 680 - 600$ стало верным 560 56 70</p>
--	---

Урок 112 Контрольная работа №5

Вариант 1.

1. Решить задачу

Один отрез ткани стоит 450 руб, а второй отрез такой же ткани – 750 руб. В первом отрезе на 2 м ткани меньше, чем во втором. Сколько метров ткани в каждом отрезе?

2. вычисли значения выражений.

$$567 \times 40 \quad 8700 : 60 \quad 9398 : 37 \quad 5000 : (5000 : 1) - 1$$

$$(400 \times 12 \times 15) : 100$$

3. Реши уравнения. $X - 80 = 7200 : 10$ $y : 1 = 456$

4. Заполни пропуски

$$6\text{м}^2 = \dots\text{дм}^2 \quad 5\text{ч } 20\text{мин} = \dots\text{мин} \quad 5\text{т } 24\text{ кг} = \dots\text{кг}$$

5. Периметр прямоугольника равен 7 дм 4 см. Длина одной его стороны равна 2 дм 5 см. Найди длину второй стороны.

6. *установи последовательность и продолжи ряд чисел.

7, 67, 567, ...

Вариант 1.

1. Решить задачу

На зиму заготовили сок в одинаковых банках: 57 л томатного сока и 84 л яблочного.

Яблочного сока получилось на 9 банок больше. Сколько заготовили банок томатного сока и сколько яблочного сока?

2. вычисли значения выражений.

$$832 \times 80 \quad 8200 \times 982 \quad 58773 : 39 \quad (400 - 13 \times 20) : 10$$

$$3000 \times 1 - 3000 : 100$$

3. Реши уравнения. $X - 90 = 4800 : 10$

$$y \times 1 = 235$$

4. Заполни пропуски

$$8\text{м}^2 \dots\text{дм}^2 \quad 4\text{ч } 50\text{мин} = \dots\text{мин} \quad 7230\text{ц} = \dots\text{кг}$$

5. Периметр прямоугольника равен 9 дм 2 см.

Длина одной его стороны равна 3 дм 5 см.

Найди длину второй стороны.

6. *Задумали два числа. Сумма этих чисел равна 276, а произведение – нулю. Какие это числа

Урок 127 Контрольная работа №6

1. Задание 1 №

Найдите значение выражение $123 \cdot 4$.

2. Задание 2 №

Найди значение выражения $4 + 5 \cdot (9 + 11)$.

3. Задание 3 №

У Тани есть 1500 рублей, и ей нужно купить 1,5 кг капусты, 1 кг перца, 1 кг моркови и 500 грамм помидоров. Какое наибольшее число лукошек клубники может купить Таня на оставшиеся деньги?

ЯБЛОКИ  85 руб.	КЛУБНИКА  150 руб.	ПЕРЕЦ  150 руб.
МОРКОВЬ  35 руб.	ПОМИДОРЫ  120 руб.	КАПУСТА  50 руб.


Запиши решение и ответ.

4. Задание 4 №

Электричка из Ростова-на-Дону в Краснодар отправилась в 7 часов 40 минут и прибыла в 12 часов 25 минут.. Сколько времени занимает дорога из Ростова-на-Дону в Краснодар, если ехать этой электричкой? Ответ вырази в минутах.

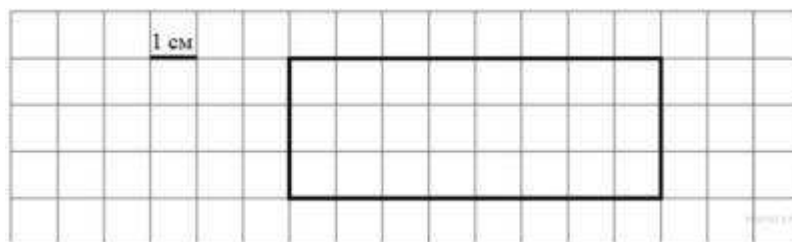
5. Задание 5.1 №

На клетчатом поле со стороной клетки 1 см изображена геометрическая фигура. Найди периметр этой фигуры.



6. Задание 5.2 №

На клетчатом поле со стороной клетки 1 см изображён прямоугольник.



Проведи на рисунке выше прямую линию так, чтобы этот прямоугольник оказался разбит на квадрат и ещё один прямоугольник.

7. Задание 6.1

В хозяйстве тётки Ани куры, гусыни и утки несли яйца, а тётка Аня вела учёт количеству снесённых яиц. Используя таблицу, ответь на вопросы.

Дни по порядку	Куры	Гусыни	Утки
Первый день	10	4	6
Второй день	4	1	4
Третий день	9	7	7
Четвёртый день	7	4	5

Сколько яиц снесли куры в третий день?

8. Задание 6.2

Ниже приведены данные за три года о количестве дождливых дней в июне-октябре в Челябинске. Используя эти данные, ответь на вопрос.

Месяц	2010 год	2011 год	2012 год
Июнь	2	7	4
Июль	3	4	2
Август	4	8	4
Сентябрь	4	10	7
Октябрь	1	4	6

В каком месяце с июня по октябрь какого года в Челябинске было наименьшее количество дождливых дней за период с 2010 по 2012 год?

9. Задание 7 №

Найди значение выражения $15015 : 5 - 230 \cdot 3$.

10. Задание 8 №

Масса восьми одинаковых ящиков с черносливом равна 100 кг. Масса пустого ящика равна 500 грамм. Чему равна масса чернослива в одном ящике?

Запиши решение и ответ.

11. Задание 9.1

В новогодней гирлянде 21 лампочка. Лампочки идут в таком порядке: одна красная, две синих, три красных, четыре синих и так далее.

Какого цвета семнадцатая лампочка?

12. Задание 9.2

Менеджер Наталья обсуждала свою новую идею с начальником отдела продаж, юристом и программистом. Каждое из обсуждений длилось ровно 45 минут с перерывами по 15 минут между ними. Известно, что юрист приехал в офис к 10:30, а у начальника отдела продаж было важное совещание с 9:00 до 10:00. При этом Наталья смогла закончить все три обсуждения к 12:00, начав первое из них в 9:15.

С кем Наталья обсуждала свою идею в 10:55?

13. Задание 10

Люда написала на футболке своё имя (см. рис. 1). Затем она подошла к зеркалу. Нарисуй, как будет выглядеть отражение её имени в зеркале (рис. 2).



Рис. 1




Рис. 2

14. Задание 11

Куртка на 700 руб. дешевле, чем пять шапок, но на 200 руб. дороже, чем две шапки. Сколько стоит шапка?

Запиши решение и ответ.

3. Решение:

- 1) $1,5 \cdot 50 = 75$ (руб.) — Таня заплатит за капусту;
- 2) $0,5 \cdot 120 = 60$ (руб.) — Таня заплатит за помидоры;
- 3) $75 + 150 + 35 + 60 = 320$ (руб.) — стоимость покупки;
- 4) $1500 - 320 = 1180$ (руб.) — сдача до покупки лукошек клубники;
- 5) $1180 = 7 \cdot 150 + 130$ — число лукошек 7.

Ответ: 7 лукошек.

Задание 4

Электричка из Ростова-на-Дону в Краснодар отправилась в 7 часов 40 минут и прибыла в 12 часов 25 минут.. Сколько времени занимает дорога из Ростова-на-Дону в Краснодар, если ехать этой электричкой? Ответ вырази в минутах.

Решение.

Дорога из Ростова-на-Дону в Краснодар занимает:

$$12 \text{ часов } 25 \text{ минут} - 7 \text{ часов } 40 \text{ минут} = 11 \text{ часов } 85 \text{ минут} - 7 \text{ часов } 40 \text{ минут} = 4 \text{ часа } 45 \text{ минут} = 4 \cdot 60 + 45 = 240 + 45 = 285 \text{ минут.}$$

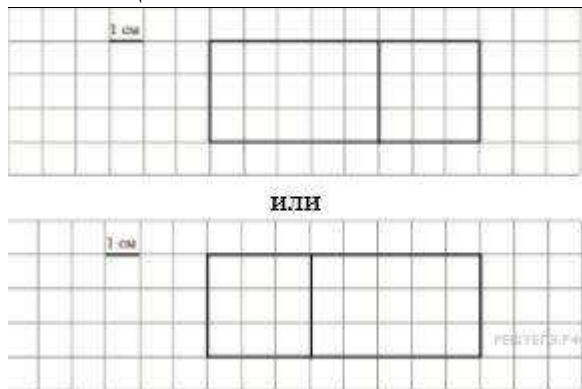
Ответ: 285 минут или 285.

На рисунке можно увидеть, что периметр искомой фигуры равен: $4 + 4 + 3 + 1 + 1 + 3 = 16$.

Проведи на рисунке выше прямую линию так, чтобы этот прямоугольник оказался разбит на квадрат и ещё один прямоугольник.

Решение.

У квадрата все стороны равны. Значит, исходя из ширины прямоугольника (3 см), квадрат может быть со сторонами 3х3. Таким образом, мы можем получить следующие комбинации:



Сколько яиц снесли куры в третий день?

Решение.

Из таблицы видно, что в третий день куры снесли 9 яиц.

Ответ: 9.

Из таблицы видно, что наименьшее количество дождливых дней было в октябре 2010 года.

Ответ: октябрь 2010 года.

Задание 7

Найди значение выражения $15015 : 5 - 230 \cdot 3$.

Решение.

Найдем значение выражения: $3003 - 690 = 2313$

Задание 8

Масса восьми одинаковых ящиков с черносливом равна 100 кг. Масса пустого ящика равна 500 грамм. Чему равна масса чернослива в одном ящике?

Запиши решение и ответ.

Решение.

1) Масса восьми пустых ящиков равна $500 \text{ г} \cdot 8 = 4000 \text{ г} = 4 \text{ кг}$;

- 2) Масса чернослива в восьми ящиках без массы самих ящиков равна $100 \text{ кг} - 4 \text{ кг} = 96 \text{ кг}$;
3) $96 \text{ кг} : 8 = 12 \text{ кг}$ — масса чернослива в одном ящике.

Ответ: 12 кг.

Задание 9.1

В новогодней гирлянде 21 лампочка. Лампочки идут в таком порядке: одна красная, две синих, три красных, четыре синих и так далее.

Какого цвета семнадцатая лампочка?

Решение.

Расставим порядок лампочек:

1-ая красная

2-ая — 3-ая синяя

4-ая — 6-ая красная

7-ая — 10-ая синяя

11-ая — 15-ая красная

16-ая — 21-ая синяя

Ответ: Синяя.

С кем Наталья обсуждала свою идею в 10:55?

Решение. Поскольку в 10:55 у Натальи было второе обсуждение, а юрист не приехал в офис к 10:15, следовательно, Наталья обсуждала свою идею с начальником отдела продаж.

Ответ: с начальником отдела продаж.



Задание 12

Куртка на 700 руб. дешевле, чем пять шапок, но на 200 руб. дороже, чем две шапки. Сколько стоит шапка?

Запиши решение и ответ.

Решение.

Решение:

Обозначим стоимость одной шапки за x (руб.). Тогда 5 шапок стоят $5x$. $5x - 700$ — стоимость куртки.

Во втором случае мы получим стоимость куртки следующим образом: $2x + 200$.

Составим уравнение:

$$2x + 200 = 5x - 700$$

$$5x - 2x = 200 + 700$$

$$3x = 900$$

Итого: $x = 300$ (руб.) — стоит одна шапка

Допускается другая последовательность действий и рассуждений, обоснованно приводящая к верному ответу.

Ответ: 300 рублей